


令和7年度

V 社 会

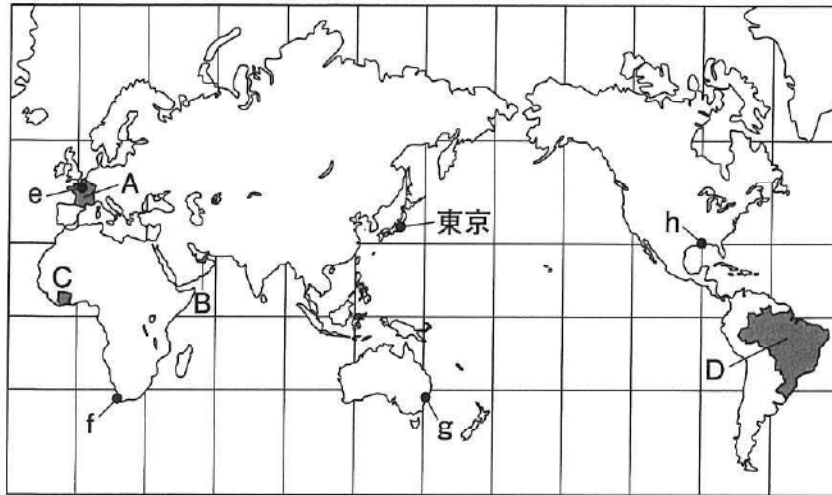
(14時20分～15時10分)

注 意

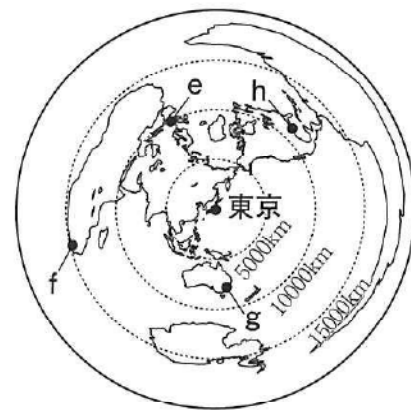
- 問題用紙は4枚(4ページ)あります。
- 解答用紙はこの用紙の裏面です。
- 答えはすべて、解答用紙の所定の欄に、文、文字などで答えるもののほかは、ア、イ、……などの符号で記入しなさい。
- 解答用紙の  の欄には記入してはいけません。

1 次の地図Ⅰは、緯線と経線が直角に交わる地図である。また、地図Ⅱは、中心からの距離と方位が正しい地図で、図の中心は東京である。なお、A～Dは国を、e～hは都市を表している。(1)～(6)の問いに答えなさい。

地図Ⅰ 緯線と経線が直角に交わる地図



地図Ⅱ 中心からの距離と方位が正しい地図

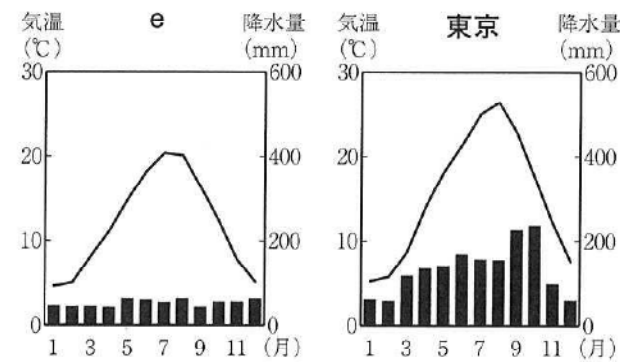


(1) 都市e～hの中で、次のi, iiの文にあてはまる都市の組み合わせとして適当なものを、右のア～クの中から一つ選びなさい。
i 東京から見て北東にある都市
ii 東京から最も遠い都市

	ア	イ	ウ	エ	オ	カ	キ	ク
i	e	f	g	h	e	f	g	h
ii	g	h	e	f	h	e	f	g

(2) 次の文は、右の雨温図で表される都市eと東京の気候について述べたものである。Xにあてはまる風の名称を漢字3字で書きなさい。

二つの雨温図を比べると、東京よりも高緯度に位置する都市eと東京の冬の気温がほぼ同じである。それは、都市eが、暖流の北大西洋海流とその上空をふくXの影響を受けているからである。



(理科年表 2024年版により作成)

(3) 右の表Ⅰは、EU、イギリス、日本、アメリカの、人口、GDP、貿易額を表している。A国が加盟しているEUとして適当なものを、表Ⅰのア～エの中から一つ選びなさい。

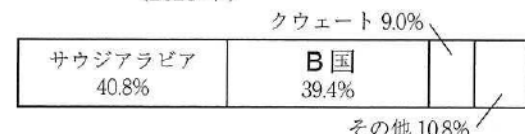
表Ⅰ EU、イギリス、日本、アメリカの、人口、GDP、貿易額 (2022年)

	人口 (百万人)	GDP (億ドル)	貿易額 (億ドル)	
			輸出	輸入
ア	68	30891	5330	8235
イ	447	167268	71769	74916
ウ	338	257441	20652	33718
エ	124	42322	7468	8972

(世界国勢図会 2024/25年版により作成)

(4) 右のグラフⅠは、日本のおもな原油輸入先とその割合を表している。グラフⅠ中の上位3か国などの産油国が加盟している、産油国の利益を守るために結成された国際機関の略称を、アルファベット4字で書きなさい。

グラフⅠ 日本のおもな原油輸入先とその割合 (2023年)

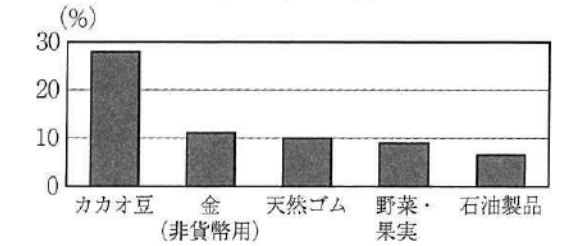


(日本国勢図会 2024/25年版により作成)

(5) 右のグラフⅡは、C国の輸出上位5品目の輸出額全体に占める割合を表している。次の文のYにあてはまる語句を、カタカナで書きなさい。

C国のような特定の農産物や鉱産資源の輸出に依存する経済を、Y経済という。

グラフⅡ C国の輸出上位5品目の輸出額全体に占める割合 (2021年)



(世界国勢図会 2024/25年版により作成)

(6) D国に関して、次の表Ⅱは、D国の森林面積と国土面積に占める割合、右の写真Ⅰ、Ⅱは、D国における森林開発後のようすを撮影したものである。下の①、②の問いに答えなさい。

表Ⅱ D国の森林面積と国土面積に占める森林面積の割合

	1989年	2022年
森林面積 (万km ²)	556	494
国土面積に占める森林面積の割合 (%)	65.3	58.1

(世界国勢図会 2024/25年版などにより作成)

写真Ⅰ D国の牛の放牧地



写真Ⅱ D国の工業団地



① D国で1989年から2022年にかけて減少した森林面積は、日本の国土面積の何%にあたるか。最も適当なものを、次のア～エの中から一つ選びなさい。
ア 約7% イ 約62% ウ 約163% エ 約220%

② 次の文は、表Ⅱと写真Ⅰ、Ⅱから読み取れるD国の課題についてまとめたものである。D国で求められている「持続可能な開発」とはどのようなものか。Zにあてはまることばを、下の二つの語句を用いて書きなさい。

D国では、Zという開発が求められている。

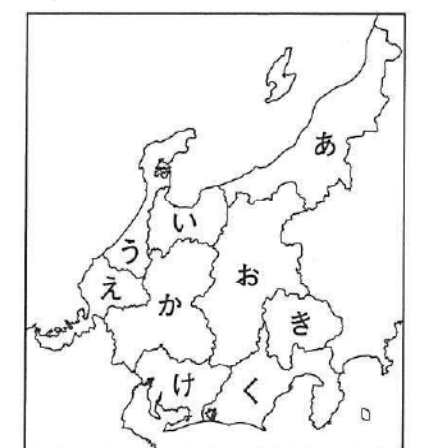
保全 経済

2 次の表のA～Dは、中部地方のいずれかの県について述べたものである。また、右の地図Ⅰのあ～けは、中部地方の各県を示している。(1)～(6)の問いに答えなさい。

表

地図Ⅰ

A	太平洋にも、日本海にも面していない。飛騨山脈、木曾山脈、Eなどの山々がそびえ、平地は少ない。aレタスやキャベツなどの野菜の栽培が盛んである。
B	日本海に面している。黒部川の流域に水力発電の施設ができ、大量の電力を必要とするF工業が発達した。現在はFを加工したサシの生産が盛んである。
C	太平洋に面している。工業が盛んで、この県の県庁所在地は、周辺の都市とともに大都市圏を形成している。また、渥美半島では菊の電照栽培が盛んである。
D	太平洋に面しており、天竜川などの河口がある。平地は少なく、海沿いの地域の一部で工業が発達している。また、牧ノ原などで特色ある農業が行われている。

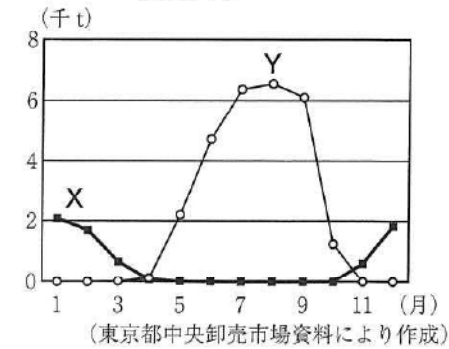


(1) Eは、飛騨山脈、木曾山脈とともに日本アルプスとよばれる。Eにあてはまる山脈名を書きなさい。

(2) 下線部 a について、右のグラフ I は、A 県、D 県から東京都中央卸売市場に入荷するレタスの量を表しており、X、Y は A 県、D 県のいずれかである。A 県について表した文として適当なものを、次のア～エの中から一つ選びなさい。

- ア A 県は X で、高原の冬の暖かさを生かしてレタスを栽培し出荷している。
- イ A 県は X で、盆地の冬の寒さを生かしてレタスを栽培し出荷している。
- ウ A 県は Y で、高原の夏の涼しさを生かしてレタスを栽培し出荷している。
- エ A 県は Y で、盆地の夏の暑さを生かしてレタスを栽培し出荷している。

グラフ I A 県、D 県から東京都中央卸売市場に入荷するレタスの量 (2023 年)



(3) B 県として適当なものを、地図 I のあ～けの中から一つ選びなさい。

(4) F にあてはまる語句をカタカナ 6 字で書きなさい。

(5) 右のグラフ II は、A、C、D 県のおもな製造品出荷額の割合を表している。G、H が表す品目の組み合わせとして適当なものを、次のア～カの中から一つ選びなさい。

グラフ II A、C、D 県のおもな製造品出荷額の割合 (%) (2021 年)

県	情報通信機械	G	生産用機械	食料品	その他
A	15.6	14.2	14.0	8.6	47.6
C	H		8.2	鉄鋼 5.5	5.0
D	H	23.6	電気機械 14.3	化学 13.1	食料品 7.9

(データでみる県勢 2024 年版により作成)

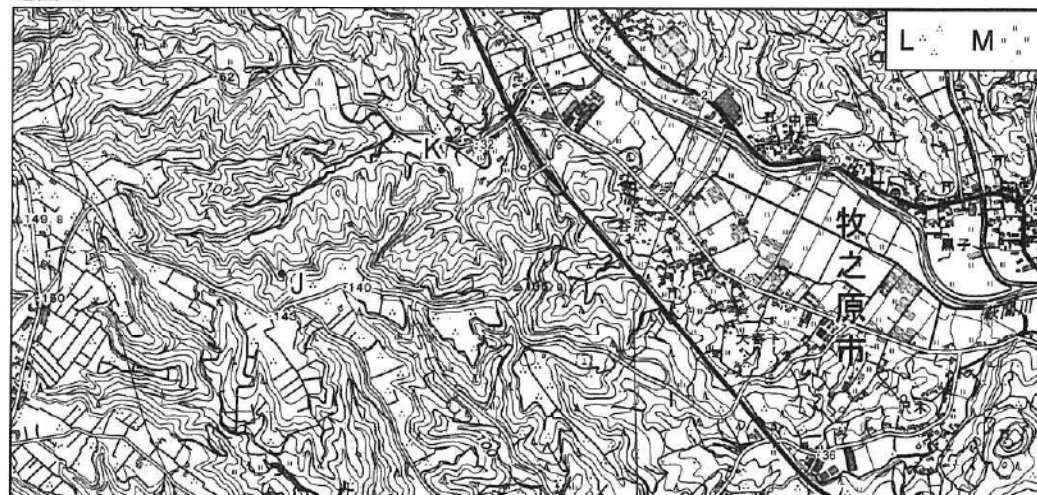
	ア	イ	ウ	エ	オ	カ
G	せんい	せんい	輸送用機械	輸送用機械	電子部品	電子部品
H	輸送用機械	電子部品	せんい	電子部品	せんい	輸送用機械

(6) 下の地図 II は、D 県の 2 万 5 千分の 1 地形図の一部である。地図 II について次の①、②の問いに答えなさい。

- ① J 地点、K 地点の標高の組み合わせとして適当なものを、次のア～カの中から一つ選びなさい。
- ア J 150m K 100m イ J 150m K 50m ウ J 100m K 150m
 - エ J 100m K 50m オ J 50m K 150m カ J 50m K 100m
- ② 地図 II の L、M は、それぞれ土地利用を表す地図記号である。L、M の分布の特徴について、L、M の地図記号が表す土地利用を明らかにしながら、次の二つの語句を用いて書きなさい。

台地や斜面 低地

地図 II




(国土地理院 2 万 5 千分の 1 地形図により作成)

3 次のカード A～E は、ある班が「金銀銅と歴史との関わり」というテーマでまとめ、古い時代から順に左から並べたものである。(1)～(7)の問いに答えなさい。

A	B	C	D	E
中国の歴史書には、奴国の王が漢の皇帝から a 金印を授けられたことや、卑弥呼が倭王の称号と金印、銅鏡 100 枚をあたえられたことが書かれている。	唐の都にならい、b 平城京を造った。人々が伝染病などに苦しむ中、天皇は仏教の力で国家を守ろうと考え、都に東大寺を建て、金銅の大仏を造らせた。	幕府が置かれた京都の他に、各地の都市も発展し、定期市では明から輸入した銅銭が流通した。また、日本は朝鮮、c 琉球などとも貿易し、銅などを輸出した。	南蛮貿易が始まると、d ヨーロッパ人は日本に火薬などをもち、日本からは銀を中国に運んだ。Y 銀山から産出された銀は、世界の経済に影響をあたえた。	幕府は主要な金山・銀山を直接支配したが、次第に産出量が減り、e 幕府の財政は悪化した。やがて、f 幕末に外国との通商が始まると、国内の経済は混乱した。

(1) 下線部 a について、右の図 I の「漢委奴国王」と刻まれた金印が江戸時代に発見された。その発見された場所について、現在の県名として適当なものを、次のア～エの中から一つ選びなさい。



- ア 山口県 イ 兵庫県 ウ 福岡県 エ 愛媛県

(2) 下線部 b について、都が平城京に置かれていた時期のようすについて述べた文として最も適当なものを、次のア～エの中から一つ選びなさい。

- ア 古墳の上に埴輪が並べられた、大きな前方後円墳が盛んに造られた。
- イ 防人や農民が作ったとされる和歌も収められた、万葉集がまとめられた。
- ウ 運慶らが作った金剛力士像など、写実的で力強い文化が生み出された。
- エ 枕草子など、かな文字を使った女性による文学が盛んになった。

(3) 下線部 c について、次の文は、琉球について述べたものである。W、X にあてはまる語句の組み合わせとして適当なものを、下のア～エの中から一つ選びなさい。

琉球は中山の王である W によって統一され、首里を都とする琉球王国が成立した。琉球王国は明との X 貿易や、東南アジアの国々や日本との中継貿易を通じて栄えた。

- ア W 安藤氏 X 朝貢 イ W 安藤氏 X 朱印船
- ウ W 尚氏 X 朝貢 エ W 尚氏 X 朱印船

(4) カード D について、右の資料 I を参考にして、Y にあてはまる語句を書きなさい。

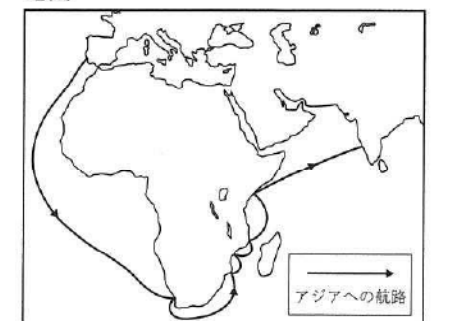
資料 I

- ・ Y 銀山は、現在の島根県にあった。
- ・現在、Y 銀山遺跡は世界遺産に登録されている。

(5) 下線部 d に関連して、右の地図は、ヨーロッパ人が 1498 年に開拓したアジアへの航路を表している。この航路を開いた人物として適当なものを、次のア～エの中から一つ選びなさい。

- ア バスコ・ダ・ガマ イ コロンブス
- ウ マルコ・ポーロ エ マゼラン

地図



(6) 下線部 e に関して、右の資料Ⅱは、幕府が財政を立て直すために行った改革についてまとめたものの一節である。資料Ⅱに表された将軍とは誰か。書きなさい。

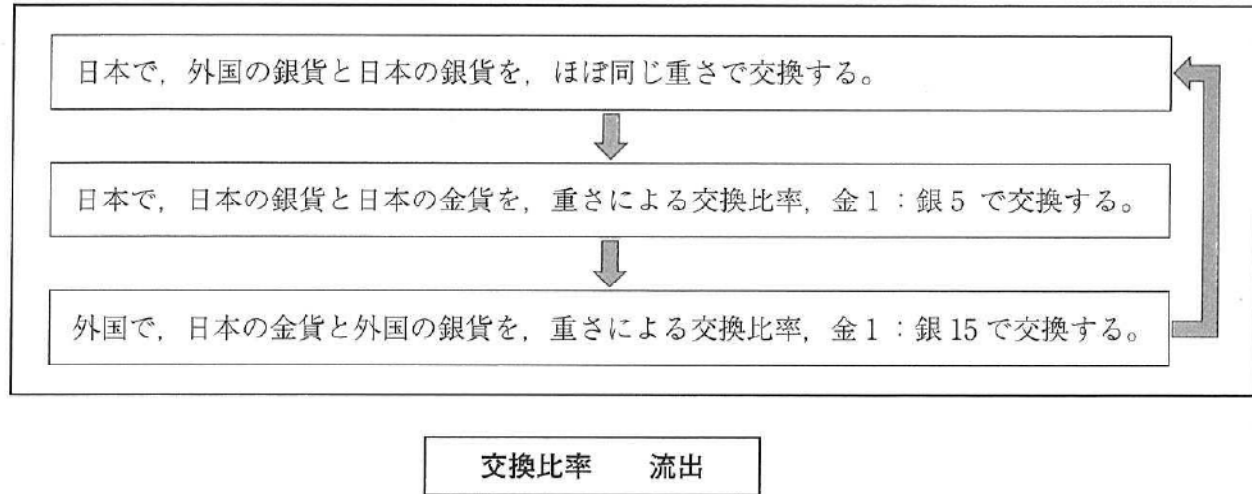
資料Ⅱ

将軍は、大名に米を納めさせる代わりに、大名が参勤交代で江戸に住む期間を半年に短縮した。

(7) 下線部 f に関して、次の文は、幕末の国内経済の混乱について、下の図Ⅱは、開国後の貨幣の交換のようすについて、ある生徒がまとめたものの一節である。Z にあてはまることばを、図Ⅱを参考にして、下の二つの語句を用いて書きなさい。

外国と貿易が始まると、生糸などが盛んに輸出されたが、国内では米などの買いしめや品不足が起こった。また、日本と外国では Z ため、幕府が貨幣の質を落とした。そのことも、物価が上昇する原因となり、経済が混乱した。

図Ⅱ



4 次の年表は、ある班が「近現代における政党政治の展開」というテーマでまとめたものの一節である。

(1) ~ (7) の問いに答えなさい。

年表

年	おもなできごと
1874	民撰議院設立の建白書が政府に提出される…………… A
1885	内閣制度がつくられる
1890	第1回帝国議会が開かれる
1894	日清戦争が始まる…………… B
1918	原敬内閣が組織される…………… C
1928	第16回衆議院議員選挙が行われる… D
1932	五・一五事件が起こる } …… E
1936	二・二六事件が起こる }
1937	日中戦争が始まる…………… F
1945	ポツダム宣言を受諾する…………… G
1955	H が成立する

(1) 年表の A について、次の資料は、ある運動に関してまとめたものの一節である。W にあてはまる語句を書きなさい。

資料

・建白書の提出により W 運動が始まった。
・各地の W 運動の代表が集まり、国会期成同盟を結成した。
・秩父事件などの激化事件が起こり、次第に W 運動は衰えていった。

(2) 年表の B について、次の文は、日清戦争前の状況について述べたものである。X、Y にあてはまる語句の組み合わせとして適当なものを、下のア～エの中から一つ選びなさい。

日本との条約改正に消極的だったイギリスも、大日本帝国憲法の発布などを受けて交渉に応じるようになった。日清戦争の直前、外相の X は日英通商航海条約を結び、Y に成功した。

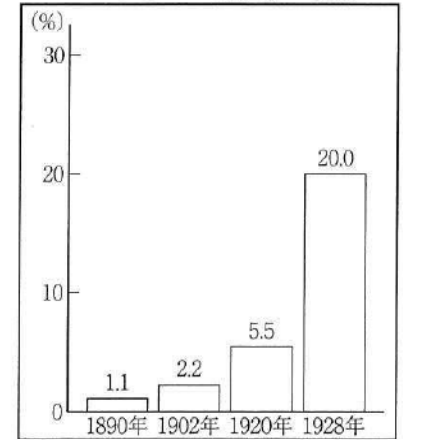
- ア X 木戸孝允 Y 関税自主権の完全回復
イ X 陸奥宗光 Y 関税自主権の完全回復
ウ X 木戸孝允 Y 領事裁判権の撤廃
エ X 陸奥宗光 Y 領事裁判権の撤廃

(3) 年表の C について、この内閣は大部分の閣僚を衆議院の第一党の党員がしめる本格的な政党内閣であった。このときの衆議院第一党として適当なものを、次のア～エの中から一つ選びなさい。

- ア 立憲政友会 イ 自由党 ウ 立憲改進黨 エ 立憲民政党

(4) 年表の D に関して、右のグラフは、選挙実施年と日本の全人口にしめる有権者の割合を表している。1928年に実施された選挙における有権者の資格として適当なものを、次のア～エの中から一つ選びなさい。

グラフ 選挙実施年と日本の全人口にしめる有権者の割合



- ア 満25歳以上の男性で、直接国税を3円以上納めている。
イ 満25歳以上の男性で、納税額による制限がない。
ウ 満25歳以上の男女で、納税額による制限がない。
エ 満25歳以上の男女で、直接国税を3円以上納めている。

(5) 年表の E について、次の表は、これらのできごとのおもな内容と影響についてまとめたものである。Z にあてはまることばを、「政党の党首」という語句を用いて書きなさい。

表

できごと	おもな内容	影響
五・一五事件	海軍の青年将校などが首相官邸を襲い、首相を殺害した。	この事件以降、内閣の首相は Z ことが多くなった。
二・二六事件	陸軍の青年将校が大臣などを殺傷し、東京の中心部を占拠した。	この事件以降、軍部はさらに影響力を強めた。

(6) 年表の F から G の間に起きたできごとについて述べた次のア～エを、古い順に左から並べて書きなさい。

- ア 日本軍はハワイの真珠湾を奇襲攻撃するとともに、マレー半島に上陸した。
イ ドイツがポーランドへの侵攻を開始した。
ウ 日本は、ドイツ・イタリアと日独伊三国同盟を結んだ。
エ アメリカ軍が沖縄に上陸し、民間人を巻き込んだ戦闘が行われた。

(7) 次の文は、年表の H について述べたものである。文中と年表の H に共通する語句を書きなさい。

1993年、非自民連立政権である細川護熙内閣が成立した。この内閣の成立により、38年間続いた「H」とよばれる、与党を自由民主党、野党第一党を日本社会党とする政治体制が終わった。

5 ある生徒は、社会科の授業で自分たちの住む地域について発表することになった。次は、その発表原稿の一部である。(1)～(6)の問いに答えなさい。


私たちが住む地域には、**a** 中小企業の工場がたくさんあり、魅力的な商品をつくっています。グローバル化が進む中で、**b** 外国と貿易する企業も増えているそうです。
一方、この地域には、**c** 少子化や高齢化の進行など、さまざまな課題があります。だれもが安心して暮らせる社会を実現するために、公共の交通機関や建物などの **X** 化をすすめることや、**d** 社会保障を充実させることも必要です。
中学生や高校生が地域の活性化に向けた取り組みに参加できる機会も増えています。**e** 私たち一人一人が主体的に考え、行動することが大切です。

(1) **X**にあてはまる語句として最も適当なものを、次のア～エの中から一つ選びなさい。

- ア クーリング・オフ イ バリアフリー
ウ デプレッション エ ワーク・ライフ・バランス

(2) 下線部 **a** に関して、右のグラフは、日本の製造業における大企業と中小企業の割合を表しており、i～iiiは、従業者数、製造品出荷額、企業数のいずれかである。iとiiiが示す項目の組み合わせとして適当なものを、次のア～カの中から一つ選びなさい。

グラフ 日本の製造業における大企業と中小企業の割合(2021年)



(日本国勢図会 2024/25 年版により作成)

- ア i 従業者数 iii 製造品出荷額
イ i 従業者数 iii 企業数
ウ i 製造品出荷額 iii 従業者数
エ i 製造品出荷額 iii 企業数
オ i 企業数 iii 製造品出荷額
カ i 企業数 iii 従業者数

(3) 下線部 **b** に関連して、次の文の **A** にあてはまる語句を書きなさい。

はなれた場所への送金には、振りこみなどの **A** が利用される。また、外国と貿易したり、海外旅行をしたりするときには、日本の通貨である円を、外国の通貨と交換する必要がある。通貨と通貨を交換する比率を **A** 相場といい、**A** 相場は銀行間での外国通貨の売買を通じて決まる。

(4) 下線部 **c** に関して、次の文の **B** にあてはまる語句を漢字7字で書きなさい。

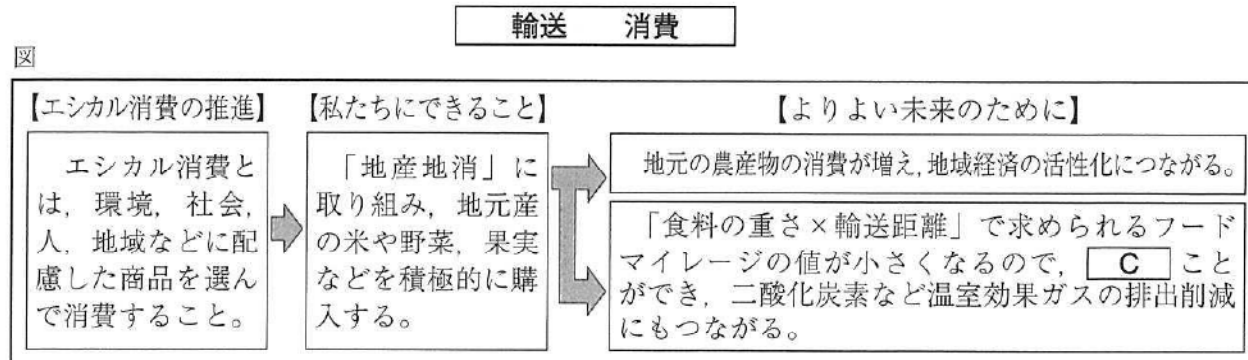
2023年、日本で、一人の女性が一生の間に生む子どもの平均人数である **B** は1.20となり、1947年に統計を取り始めて以降、最も低くなった。

(5) 下線部 **d** に関して、次の文は、日本の社会保障制度の四つの柱のうちのいずれかの取り組みについて述べたものである。この文と最も関係が深いものを、下のア～エの中から一つ選びなさい。

子どもを生んで育てやすいように保育所を整備する。

- ア 社会保険 イ 公的扶助 ウ 社会福祉 エ 公衆衛生

(6) 下線部 **e** について、下の図は、この発表を聞いた生徒が私たちにできることについてまとめたものである。**C**にあてはまることばを、次の二つの語句を用いて書きなさい。



6 次は、社会科の授業で、生徒たちが班ごとに設定した学習課題の一部である。(1)～(6)の問いに答えなさい。

- A班「**a** 公共の福祉によって、基本的人権が制限されることがあるのはなぜか。」
B班「**b** 日本国憲法改正の手続きは、どのようになっているか。」
C班「**c** 平和主義をかかげる日本には、**d** 国際社会でどのような役割が求められるか。」
D班「**e** 男女平等の実現に向けて、**f** 行政機関に求められる取り組みとは何か。」

(1) 下線部 **a** について、次の文は、日本の基本的人権に関して、A班がまとめたものである。**X**、**Y** にあてはまる語句の組み合わせとして適当なものを、下のア～カの中から一つ選びなさい。

自由権のうち、**X** の自由については、行きすぎると貧富の差が大きい不公平な社会になる可能性もあるため、公共の福祉による制限が広く認められています。これに対して、思想・良心の自由など、**Y** の自由については、こうした事情がないため、公共の福祉による制限が認められる例は限定的です。

- ア **X** 精神 **Y** 身体 イ **X** 精神 **Y** 経済活動 ウ **X** 身体 **Y** 精神
エ **X** 身体 **Y** 経済活動 オ **X** 経済活動 **Y** 精神 カ **X** 経済活動 **Y** 身体

(2) 下線部 **b** に関して、次の文は、憲法改正の手続きの一部について述べたものである。下線部 **I**、**II** の正誤の組み合わせとして適当なものを、下のア～エの中から一つ選びなさい。

国の最高法規である日本国憲法を改正するためには、**I** 各議院の総議員の過半数の賛成で国会が改正案を発議し、**II** 満18歳以上の国民による国民投票で有効投票の過半数の賛成を得る必要がある。

- ア **I** 正 **II** 正 イ **I** 正 **II** 誤 ウ **I** 誤 **II** 正 エ **I** 誤 **II** 誤

(3) 下線部 **c** に関連して、日本は、アメリカ軍が日本の領域に駐留することを認めている。このことを定めている取り決めとして適当なものを、次のア～エの中から一つ選びなさい。

- ア 日米安全保障条約 イ 核拡散防止条約 ウ PKO協力法 エ 国際連合憲章

(4) 下線部 **d** に関連して、次の文は、C班が見つけた国際連合の安全保障理事会に関する記事の一部である。この事例における採決の結果として適当なものを、下のア～エの中から一つ選びなさい。

ある国において化学兵器が使用された疑いがあることを受け、安全保障理事会で調査実施に向けた決議案の採決が2018年に行われました。理事会に出席した15か国のうち、アメリカなど12か国が賛成、ロシアと非常任理事国のボリビアが反対し、中国は棄権しました。

- ア 過半数の賛成により、可決された。 イ アメリカの賛成により、可決された。
ウ ロシアの反対により、否決された。 エ ボリビアの反対により、否決された。

(5) 下線部 **e** に関して、次の文は、D班が調べたものの一部である。**P**にあてはまる語句を書きなさい。

1985年に制定された **P** 法
第1条 この法律は、法の下の平等を保障する日本国憲法の理念にのっとり雇用の分野における男女の均等な機会及び待遇の確保を図るとともに、女性労働者の就業に関して妊娠中及び出産後の健康の確保を図る等の措置を推進することを目的とする。

(6) 下線部 **f** に関連して、次の文は、日本の内閣総理大臣が選ばれる過程について、D班が発表した内容の一部である。**Q**にあてはまることばを、「指名」という語句を用いて書きなさい。

日本では、行政権を持つ内閣の首長が内閣総理大臣です。では、内閣総理大臣はどのような人の中から、どのようにして選ばれるのでしょうか。内閣総理大臣は **Q** と定められており、内閣は、国会に対して連帯して責任を負う議院内閣制のしくみを採用しています。